



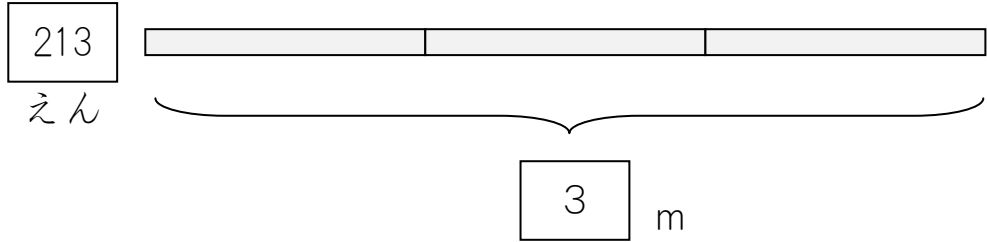
16 213 × 3 の かけざん

(3位数) × (1位数) で繰り上がりのない計算

1

1 m 213 えんの リボンを 3 m かいしました。
3 m で だいきんは いくらになりますか。

メートル
m


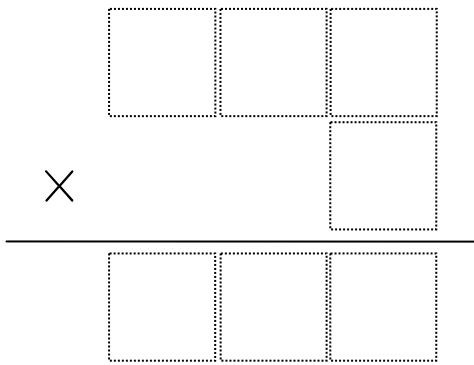


① しきをかきましょう。

$$\boxed{} \times \boxed{} = \boxed{}$$

1 m の ねだん なん m かったか だいきん

② ひっさんのしきにしましょう。



③ 3 × 3 の こたえをかきましょう。

④ 1 × 3 の こたえをかきましょう。

⑤ 2 × 3 の こたえをかきましょう。

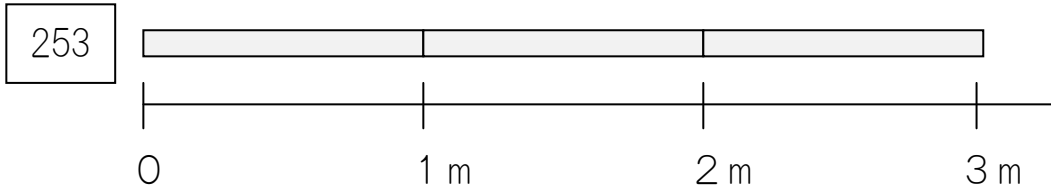
⑥ 3 m でいくらになりますか。

えん

2

1 m 253 さんの リボン を 3 m かいました。


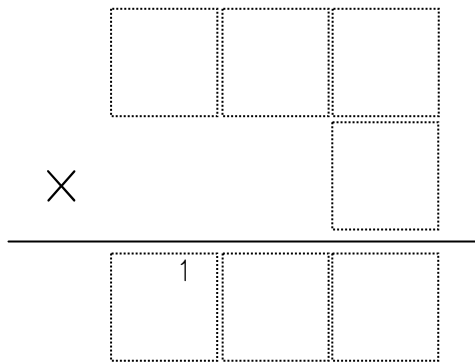
3 m で だいきん は いくらになりますか。



① しきをかきましょう。

$$\begin{array}{ccc}
 \boxed{} & \times & \boxed{} = \boxed{} \\
 \text{1 m の ねだん} & & \text{なん m かったか} \quad \text{だいきん}
 \end{array}$$

② ひっさんのしきにしましょう。



③ 3 × 3 の こたえをかきましょう。

④ 5 × 3 の こたえ 15 をかきましょう。

1 は ちいさく かきます。

⑤ 2 × 3 の こたえ 6 と ちいさく かい た 1 を

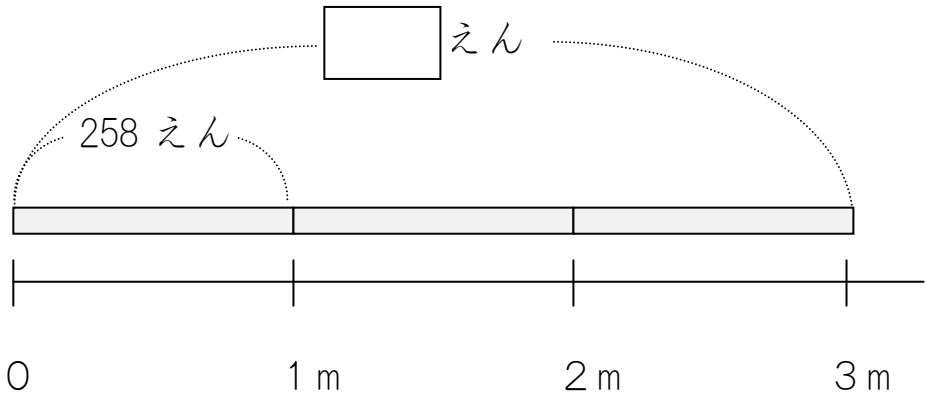
たした こたえ 7 を かきましょう。

⑥ 3 m で いくらになりますか。

さん

3

1 m 258 えるの リボンが 3m でいくらになりますか。



① しきをかきましょう。


$$\boxed{} \times \boxed{} = \boxed{}$$

1 m の ねだん なん m かったか だいぎん

② ひっさんのしきにしましょう。

×

7	1	5 + 2	4
---	---	-------	---



- ③ 8 × 3 のこたえ 24 をかきます。
2 はちいさくかきます。
- ④ 5 × 3 のこたえ 15 をかきましょう。
5 はちいさくかきます。
1 もちいさくかきます。
- ⑤ 5 + 2 のこたえ 7 をかきます。
- ⑥ 2 × 3 のこたえ 6 とちいさくかいた
1 をたしたこたえ 7 をかきましょう。

⑦ 3 m でいくらになりますか。 える

4

つぎのかけざんをひっさんでしましょう。

(1) 163×6

(2) 302×8

(1)

1	6	3	
			6
<hr/>			
6	3	6	1
			8

6 × 3 = 18 の 8 を かきます。
1 は ここに ちいさく かきます。

6 × 6 = 36 の 36 を ちいさく かきます。

6 + 1 のこたえをかきます。

6 × 1 = 6 の 6 を ちいさく かきます。

6 + 3 のこたえをかきます。

(2)

3	0	2	
			8
<hr/>			
2	4	0	1

8 × 2 = 16 の 6 を かきます。
1 は ここに ちいさく かきます。

8 × 0 = 0 の 0 を ちいさく かきます。

0 + 1 のこたえをかきます。

8 × 3 = 24 を かきます。