

15-1 新しい漢字 (問・式・等・両・倍・短)

24+8=  
直角はどこですか。

漢字の読み方を  
ひらがなで書きな  
い。

問題

もん だい  
cuestión

26 + 13 =  
52 - 35 =  
6 × 9 =  
25 ÷ 5 =

式


し き  
fórmula

5cm      5cm

50 cc      50 cc

等しい

ひと し い  
igual / equivalente



両方

りょう ほう  
ambos

5cm

5cm

二倍


に ばい  
el doble / dos veces

短い

みじ かい  
corto

15-2 読めるかな？（問・式・等・両・倍・短）

●（ ）の中に ひらがなで 漢字の 読みかたを 書いて ください。

$24 + 8 =$   
 直角はどこですか。  



問題

(                    )

$16 + 4 = 20$


式

(                    )



$3\text{ cm}$   
  
 $3\text{ cm}$

等しい

(                    )しい

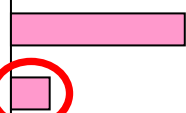

両方

(                    )

$10\text{ cm}$   
  
  
 $5\text{ cm}$

二倍

(                    )

  
○

短い

(                    )い



15-3 書けるかな？（問・式・等・両・倍・短）

	丨 丨	丨 丨	丨 丨	丨 丨	丨 丨	丨 丨	丨 丨	丨 丨	問 問
問	問	問							
	一 一	一 一	式 式	式 式					
式	式	式							
	ノ 上	大 大	大 大	大 大	大 大	大 大	大 大	大 大	等 等
等	等	等							
	雨 雨	雨 雨	雨 雨	雨 雨					
両	両	両							
	倍 倍	倍 倍	倍 倍	倍 倍	倍 倍	倍 倍	倍 倍	倍 倍	
倍	倍	倍							
	丨 上	上 上	上 上	知 知	知 知	知 知	知 知	知 知	短 短
短	短	短							



15-4 読んでみよう！書いてみよう！（問・式・等・両・倍・短）

●（ ）の中に ひらがなで 漢字の 読みかたを 書いて ください。

①2つの 式（ ）の 答えは等（ ）しい です。

②テストの ときは、問題（ ）を  
よく 読んで 考えましょう。

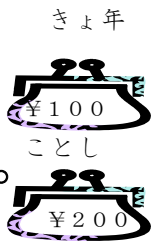
$16+4=20$
$18+2=20$

③両方（ ）の おもさは 同じです。



④わたしの おこづかいは、きょ年は 100円でした。

ことは 今年 は 200円です。二倍（ ）に なりました。



⑤さち子さんの かみは 長いですが、けい子さんの  
かみは 短（ ）い です。



● □に 漢字を 書いて ください。

① 



 の文は 


 いです。

もん だい

みじか



② 


 は ちがいますが、答えは 


 しいです。

しき

ひと

$2 + 8 = 10$
--------------

$6 + 4 = 10$
--------------

③ 



 あわせて 6cm です。

りょう ほう

3 cm



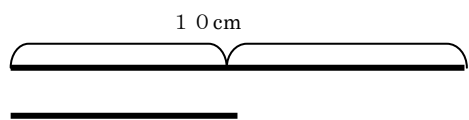
④ 



 の ながさ です。

に ばい

3 cm



5 cm

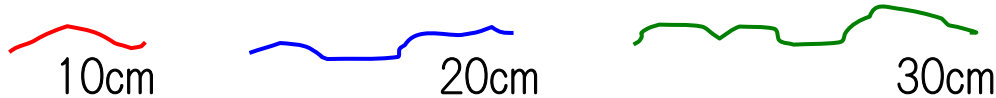
### 15-5 読めるよ！書けるよ！（問・式・等・両・倍・短）

- 文を読んで、正しいものに○、まちがっているものに×をつけてください。

$$8 \times 2 = 16 \quad 32 \div 2 = 16$$

- (      ) 2つの式の答えは等しいです。  
 (      ) 2つの式は同じです。  
 (      ) 16は8の二倍です。  
 (      ) 2つの式は、両方ともかけ算です。

- ひもが3本あります。文を読んで(      )に答えをかいてください。



- 1番長いひもは(      )cmです。  
 1番短いひもは(      )cmです。  
 20cmのひもは、1番短いひもの(      )倍です。  
 1番長いひもは、1番短いひもの(      )倍です。

わかるかな。

